



## Ayuntamiento de Caspe

Expediente n.º: 9675/2022 y 488/2024

Acta de Constitución del Tribunal Calificador y desarrollo de los ejercicios en la convocatoria de una plaza de OPERARIO ESPECIALIZADO en el Ayuntamiento de Caspe

### ACTA N.º 3,

### DE ADOPCIÓN DE ACUERDOS Y CALIFICACIÓN DE LOS EJERCICIOS DE LA FASE DE OPOSICIÓN

Reunidos en la Casa de Cultura de Caspe, el 24 de octubre de 2024, a las 12:35 horas, los integrantes del Tribunal calificador, que se constituye para valorar las pruebas selectivas de los aspirantes a proveer la plaza de personal laboral de OPERARIO ESPECIALIZADO, mediante el sistema de concurso-oposición, del Ayuntamiento de Caspe, son:

Cargo	Identidad
Presidente	Gabriel Landa Crespo
Vocal	Fernando Paracuellos Latre
Vocal	Cristina Cebrián Anós
Vocal	Juan Gregorio Espallargas Pedrós
Secretario	Francisco Manuel Carreras Costa

Constituido el Tribunal calificador y de conformidad con las bases reguladoras de la convocatoria de la citada plaza, se adoptan los siguientes acuerdos:

**PRIMERO.** Aprobar, de conformidad con lo dispuesto en la base séptima, apartado ii) de la convocatoria, la plantilla provisional de respuestas del primer ejercicio de la fase de oposición, para la selección de una plaza de personal laboral OPERARIO ESPECIALIZADO del municipio de Caspe, mediante el sistema de concurso-oposición. Figura en el anexo I de la presente acta.

**SEGUNDO.** Aprobar, de conformidad con lo dispuesto en la base séptima, apartado ii) de la convocatoria, la plantilla provisional de respuestas del segundo ejercicio de la fase de oposición, para la selección de una plaza de personal laboral OPERARIO ESPECIALIZADO del municipio de Caspe, mediante el sistema de concurso-oposición. Figura en el anexo II de la presente acta.

**TERCERO.** Proceder a la calificación provisional del primer ejercicio de la fase de oposición; es la siguiente:

Apellidos	Nombre	DNI	PUNTUACIÓN
BEL MAZA	ISMAEL	***5359**	<b>32</b>
LOSADA MARTÍNEZ	AGUSTÍN	***1315**	<b>19</b>

**CUARTO.** Proceder a la calificación provisional del segundo ejercicio de la fase de oposición; es la siguiente.

Apellidos	Nombre	DNI	PUNTUACIÓN
BEL MAZA	ISMAEL	***5359**	<b>11</b>
LOSADA MARTÍNEZ	AGUSTÍN	***1315**	<b>9</b>

**QUINTO.** Una vez concluida la fase de oposición, el Tribunal acuerda aprobar provisionalmente la relación de aspirantes con la puntuación total obtenida en la misma:

Ayuntamiento de Caspe

Plza. España, 1, Caspe. 50700 (Zaragoza). Tfno. 976 639 066. Fax: 976 639 069



## Ayuntamiento de Caspe

Apellidos	Nombre	DNI	PUNTUACIÓN		
			Ejerc. 1	Ejerc. 2	TOTAL
BEL MAZA	ISMAEL	***5359**	32	11	<b>43</b>
LOSADA MARTÍNEZ	AGUSTÍN	***1315**	19	9	<b>28</b>

**SEXTO.** Publicar la presente acta en el tablón de anuncios de la sede electrónica del Ayuntamiento de Caspe (<https://caspe.sedelectronica.es/>) y en la web municipal ([https://www.caspe.es/empleo\\_publico](https://www.caspe.es/empleo_publico)), y establecer un plazo de 5 días naturales, a contar desde la publicación de la presente acta, a los efectos de poder formular y presentar las personas aspirantes, las reclamaciones que consideren oportunas.

El presidente da por terminada la reunión a las 13:00 horas.

En Caspe, a 24 de octubre de 2024, la extiende el secretario, que da fe de la sesión.

**Presidente**  
**Gabriel Landa Crespo**

**Vocal**  
**Fernando Paracuellos Latre**

**Vocal**  
**Cristina Cebrián Anós**

**Vocal**  
**Juan Gregorio Espallargas Pedrós**

**Secretario**  
**Francisco Manuel Carreras Costa**



## Ayuntamiento de Caspe

### ANEXO I

CONVOCATORIA DEL PROCEDIMIENTO SELECTIVO PARA LA PROVISIÓN MEDIANTE EL SISTEMA EXTRAORDINARIO DE CONCURSO-OPOSICIÓN DE LAS PLAZAS DE PERSONAL LABORAL Y FUNCIONARIO DEL AYUNTAMIENTO DE CASPE, INCLUIDAS EN LA OFERTA DE EMPLEO PÚBLICO PARA LA ESTABILIZACIÓN DE EMPLEO TEMPORAL DEL AÑO 2022.

#### OPERARIO ESPECIALIZADO

PRIMER EJERCICIO. 24 de octubre de 2024

#### PREGUNTAS

1	<b>La soberanía nacional reside en:</b>
A)	En el pueblo español, del que emanan los poderes del Estado.
B)	En el Rey, del que emanan los poderes del Pueblo.
C)	En el pueblo español, del que emanan los poderes del Rey.
D)	En el Rey, del que emanan los poderes del Estado.
2	<b>España se constituye en un Estado social y democrático de Derecho, que propugna como valores superiores de su ordenamiento jurídico. Señala la respuesta incorrecta:</b>
A)	La justicia.
B)	La libertad.
C)	El sindicalismo.
D)	El pluralismo político.
3	<b>Según el artículo 3.1 de la Constitución Española. ¿Cuál es la lengua española oficial del Estado?</b>
A)	El castellano.
B)	El español, el catalán, el gallego y el euskera.
C)	el español.
D)	Las respuestas b y c son correctas.
4	<b>El Título VII de la Constitución trata de:</b>
A)	La reforma constitucional.
B)	Economía y Hacienda.
C)	Las Cortes y el Senado.
D)	Derechos y deberes.
5	<b>Cómo se conoce popularmente la llave Stillson:</b>
A)	Llave ajustable.
B)	Llave inglesa.
C)	Llave grifa.
D)	Llave autoajustable.



## Ayuntamiento de Caspe

<b>6</b>	<b>Qué herramienta se utiliza para cortar el agua por avería en una tubería de polietileno:</b>
A)	Una almádena.
B)	<b>Un pinzador.</b>
C)	Una llave autoajutable.
D)	Un pie de rey.
<b>7</b>	<b>Los cables de fases pueden ser de tres colores:</b>
A)	Negros, marrones y azules.
B)	<b>Negros, marrones y grises.</b>
C)	Negros, azules y verdes.
D)	Azules, marrones y amarillos.
<b>8</b>	<b>Los fusibles son unos elementos que se ponen al principio de algunos circuitos para:</b>
A)	<b>Proteger de sobrecargas.</b>
B)	Controlar el gasto de corriente eléctrica.
C)	Evitar el gasto de corriente eléctrica.
D)	Ninguna es correcta.
<b>9</b>	<b>¿Cuál es la unidad de medida de la potencia?</b>
A)	Ohmio.
B)	Amperio.
C)	Voltio.
D)	<b>Vatio.</b>
<b>10</b>	<b>¿A qué se denomina caudal de una instalación de agua?</b>
A)	Es la altura que tiene la instalación
B)	Es el grosor de la tubería de dicha instalación
C)	<b>Es la cantidad de agua por unidad de tiempo suministrada por dicha instalación</b>
D)	Es la resistencia que opone el material de que está hecha dicha instalación.
<b>11</b>	<b>En fontanería, la válvula de seguridad:</b>
A)	<b>Se colocará en los depósitos de agua caliente a presión para facilitar el escape de un exceso de presión acumulada en el interior del depósito.</b>
B)	Es el elemento de la instalación que origina el mayor número de averías.
C)	Se compone de resorte, tuerca de regulación, palanca rotatoria y racor de expulsión.
D)	Ninguna de las anteriores es correcta.
<b>12</b>	<b>¿Qué tipo pintura se utilizará para la protección de los elementos y enseres de madera de un escenario con el fin de retardar su combustión?</b>
A)	Pinturas bituminosas.



## Ayuntamiento de Caspe

	B)	Pinturas grasas.
	C)	Pinturas ignífugas.
	D)	Pinturas hidrófugas.
13		<b>El surco o canal abierto en una pared para empotrar cables, tuberías, etc, se denomina:</b>
	A)	Junta.
	B)	Canaleta.
	C)	Roza.
	D)	Llagón.
14		<b>Entendemos por "inglete"</b>
	A)	Corte de ángulo a 45°.
	B)	Corte transversal.
	C)	Ensamble a testa.
	D)	Ensamble con ángulo a 90°.
15		<b>Las llagas en albañilería son:</b>
	A)	Juntas verticales entre ladrillos.
	B)	Grietas formadas por roturas de asiento.
	C)	Fisuras horizontales en la masa.
	D)	Fisuras que se forman tanto en horizontal como en vertical.
16		<b>En la instalación de agua de un edificio, para evitar la pérdida de carga o evitar que al abrir un grifo se pierda caudal de agua en otro:</b>
	A)	Utilizaremos tuberías de plomo o cobre, indistintamente, en la instalación general y de hierro en la específica de cada punto o aparato.
	B)	Utilizaremos tuberías de mayor diámetro en la instalación general y de menor en la específica de cada punto o aparato.
	C)	Utilizaremos tuberías de cobre en la instalación específica de cada punto o aparato.
	D)	Utilizaremos tuberías del mismo diámetro en toda la instalación.
17		<b>Los pictogramas de peligro incluidos en las etiquetas de los productos químicos son composiciones gráficas que contienen:</b>
	A)	Un símbolo negro sobre un fondo naranja con un marco negro.
	B)	Un símbolo negro sobre un fondo blanco con un marco rojo.
	C)	Un símbolo negro sobre un fondo azul con un marco negro.
	D)	Un símbolo negro sobre un fondo amarillo con un marco negro.
18		<b>En un andamio, a partir de qué altura sería necesario la colocación de barandillas:</b>
	A)	3 metros.
	B)	4 metros.



## Ayuntamiento de Caspe

	C)	2 metros.
	D)	2,5 metros.
19		<b>Si en nuestro centro de trabajo es necesario eliminar una plaga de hongos que está afectando a las plantas del jardín, ¿qué tipo de plaguicida sería el más adecuado para atajar el problema?</b>
	A)	Un fungicida.
	B)	Un herbicida.
	C)	Un nematicida.
	D)	Un insecticida.
20		<b>Lo primero que debemos hacer para utilizar una máquina eléctrica por primera vez es:</b>
	A)	Verificar que no esté conectada a la red.
	B)	Leer las instrucciones de uso.
	C)	Comprobar el material del que está hecha.
	D)	Conocer el periodo de garantía.
21		<b>¿Qué elemento protege los circuitos contra los cortocircuitos?</b>
	A)	Magnetotérmico.
	B)	Diferencial.
	C)	Reactancia.
	D)	Contactador.
22		<b>Como operario de mantenimiento, para poder hacer uso de herbicidas catalogados como productos fitosanitarios deberá:</b>
	A)	Tener experiencia previa.
	B)	Estar en posesión del carné reglamentario.
	C)	Hacerlo siempre que se lo indique un superior.
	D)	Usarlos igual que cualquier otro producto químico.
23		<b>En la utilización de productos químicos, si se realizan trasvases, ¿cuál de las siguientes afirmaciones no es cierta?</b>
	A)	Se realizarán siempre en lugares bien ventilados.
	B)	Se utilizarán envases compatibles con el producto químico manipulado.
	C)	Se realizarán siempre los trasvases por vertido libre.
	D)	Se etiquetará el nuevo recipiente como el envase original.
24		<b>Cuando en la realización de su trabajo como operario de mantenimiento necesite levantar cargas no deberá:</b>
	A)	Colocar los pies lo más juntos posibles.
	B)	Agarrarla firmemente.
	C)	Evitar los giros.



## Ayuntamiento de Caspe

	D) Mantener la carga pegada al cuerpo.
<b>25</b>	<b>La cara menor del ladrillo se denomina:</b>
A)	Canto.
B)	Tizón.
C)	<b>Testa.</b>
D)	Tabla.
<b>26</b>	<b>El elemento productor de calor mediante inflamación de combustible y que mantiene su llama, se denomina:</b>
A)	Bomba de circulación.
B)	Bomba de calor.
C)	<b>Quemador.</b>
D)	Grupo de presión.
<b>27</b>	<b>En jardinería desmenuzar hace referencia a .... Señale la respuesta correcta:</b>
A)	Abrir la tierra para que penetre en ella agua
B)	Una herramienta de cavado
C)	Una herramienta de riego
D)	<b>Reducir los terrones a tamaño pequeño</b>
<b>28</b>	<b>Son árboles de hoja caduca:</b>
A)	Encina
B)	Laurel
C)	Olivo
D)	<b>Almendro</b>
<b>29</b>	<b>¿Por qué se poda?</b>
A)	Para guiar la planta y darle forma a la copa
B)	Para guiar la planta, darle forma a la copa y favorecer la producción de frutos
C)	<b>Para guiar la planta, mantener su salud y aumentar la calidad de sus flores y frutos</b>
D)	Porque es obligatorio
<b>30</b>	<b>En el tratamiento con productos fitosanitarios NO utilizaremos:</b>
A)	Guantes de nitrilo
B)	Guantes de neopreno
C)	Guantes de nitrilo desechables
D)	<b>Guantes de látex</b>
<b>31</b>	<b>El herbicida sistémico debe aplicarse:</b>
A)	Con pulverización muy fina y sin viento



## Ayuntamiento de Caspe

	B)	Con pulverización muy fina y con viento
	C)	Con pulverización media y ausencia de viento
	D)	Ninguna es correcta
<b>32</b>		<b>Cuántos componentes tiene el pleno municipal del consistorio caspolino</b>
	A)	13
	B)	15
	C)	17
	D)	19
<b>33</b>		<b>¿Cuál es la periodicidad de las sesiones ordinarias de las comisiones informativas permanentes del Ayuntamiento de Caspe?</b>
	A)	Mensual
	B)	Quincenal
	C)	Bimensual
	D)	Mensual exceptuando el mes de agosto
<b>34</b>		<b>En qué calle se encuentra el edificio del Antiguo Ayuntamiento</b>
	A)	En la calle Mayor
	B)	En la Plaza Compromiso
	C)	En la Plaza España
	D)	En la Calle Carmen
<b>35</b>		<b>El municipio es</b>
	A)	El conjunto de habitantes que viven en un mismo término jurisdiccional, el cual está regido por un ayuntamiento.
	B)	El conjunto de habitantes que viven en una pedanía, el cual está regido por una Comunidad Autónoma.
	C)	Ninguna de las anteriores es correcta
	D)	La A y la B son correctas
<b>36</b>		<b>Si un cuerpo ofrece muy poca resistencia al paso de la corriente, este cuerpo será:</b>
	A)	Aislante
	B)	Conductor
	C)	Semiconductor
	D)	Ninguna es correcta
<b>37</b>		<b>Cuando un hormigón se define como H-250 se refiere a:</b>
	A)	Su resistencia en kp/cm <sup>2</sup> .
	B)	La cantidad de agua por metro cúbico.
	C)	El peso de la armadura de hierro por metro cúbico.
	D)	Todas las anteriores son correctas





## Ayuntamiento de Caspe

<b>38</b>		<b>Corresponde la aprobación del reglamento orgánico y de las ordenanzas</b>
	A)	Al Pleno
	B)	Al Pleno, pudiendo delegar esta atribución en el Alcalde y en la Junta de Gobierno Local
	C)	A la Junta de Gobierno Local
	D)	Al Alcalde
<b>39</b>		<b>¿Qué material se utiliza en el guarnecido de un paramento?</b>
	A)	Yeso
	B)	Escayola
	C)	Mortero de cemento
	D)	Azulejo cerámico
<b>40</b>		<b>El hormigón es el resultado de una mezcla de</b>
	A)	Cemento, arena y cal
	B)	Cemento, arena y grava
	C)	Cemento y arena
	D)	Cemento, arena, grava y pintura+D21D237



## Ayuntamiento de Caspe

### PREGUNTAS DE RESERVA

41	<b>A tenor del artículo 8 de la Constitución Española, no constituyen parte de las Fuerzas Armadas:</b>
A)	La Armada.
B)	El Ejército de Tierra.
C)	El Ejército del Aire.
D)	<b>La Guardia Civil.</b>
42	<b>En un metro cuadrado de baldosa de 20x20 cm., ¿Cuántas baldosas entran?</b>
A)	15 baldosas.
B)	20 baldosas.
C)	<b>25 baldosas</b>
D)	30 baldosas
43	<b>En una instalación de fontanería, la llave de paso que se coloca en la entrada de agua a los sanitarios es del tipo:</b>
A)	Llave de empotrar de cuello largo.
B)	Llave de compuerta.
C)	<b>Llave de escuadra.</b>
D)	Llave de empotrar con roseta.
44	<b>Según el Estatuto de Autonomía de Aragón, son entidades territoriales constituidas por la agrupación de municipios limítrofes, vinculados por características e intereses comunes:</b>
A)	<b>Las comarcas.</b>
B)	Las mancomunidades.
C)	Las provincias.
D)	Las Comunidades Autónomas.
45	<b>1. Nos entregan un plano en escala 1:500, ¿qué significa?</b>
A)	Que 1 milímetro del plano equivale a 5 metros en la realidad.
B)	Que 1 centímetro del plano equivale a 500 metros en la realidad.
C)	<b>Que 1 centímetro del plano equivale a 500 centímetros en la realidad.</b>
D)	Que 1 metro del plano equivale a 500 centímetros de la realidad.



## Ayuntamiento de Caspe

### ANEXO II


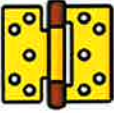


CONVOCATORIA DEL PROCEDIMIENTO SELECTIVO PARA LA PROVISIÓN MEDIANTE EL SISTEMA EXTRAORDINARIO DE CONCURSO-OPOSICIÓN DE LAS PLAZAS DE PERSONAL LABORAL Y FUNCIONARIO DEL AYUNTAMIENTO DE CASPE, INCLUIDAS EN LA OFERTA DE EMPLEO PÚBLICO PARA LA ESTABILIZACIÓN DE EMPLEO TEMPORAL DEL AÑO 2022.

#### OPERARIO ESPECIALIZADO

SEGUNDO EJERCICIO. 24 de octubre de 2024

#### EJERCICIO TEÓRICO PRÁCTICO

1. Clasifica los siguientes elementos de Carpintería (6 puntos):

- 1.-  a) UNIÓN
- 2.-  b) FIJACIÓN
- 3.-  c) CORTE
- 4.-  d) SUJECIÓN

A) 1a; 2b; 3c; 4d

**B) 1b; 2a; 3d; 4c**

C) 1d; 3b; 2c; 4a

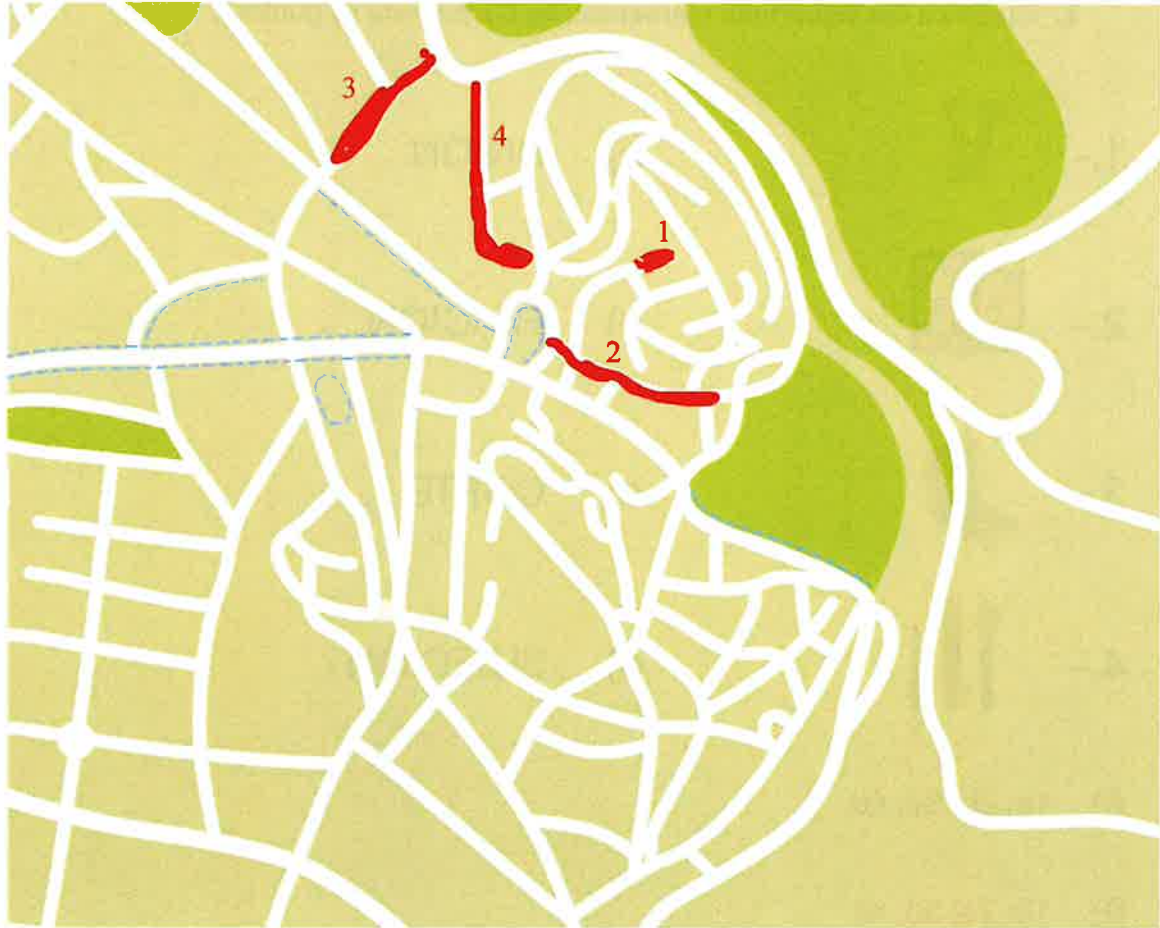
D) 1c; 2a; 3c; 4b



## Ayuntamiento de Caspe

2. Según el callejero de Caspe, localiza las siguientes calles de la ciudad, escribiendo el nombre en el mapa (8 puntos).

- 1.- CALLE MALLADA
- 2.- CALLE DEL CARMEN
- 3.- CALLE LORENZO PARDO
- 4.- CALLE CHORRÍO





## Ayuntamiento de Caspe

3. Identifica las calles citadas anteriormente, según la zona a la que pertenecen. (Callejero Caspe) (6 puntos)

- 1.- CASPE ANTIGUO
- 2.- CASPE HASTA S. XVII

(indicar con el número 1 ó 2 en el cuadro que corresponda)

1

2

- |                                     |                                     |                     |
|-------------------------------------|-------------------------------------|---------------------|
| <input checked="" type="checkbox"/> | <input type="checkbox"/>            | Calle Mallada       |
| <input checked="" type="checkbox"/> | <input checked="" type="checkbox"/> | Calle del Carmen    |
| <input type="checkbox"/>            | <input checked="" type="checkbox"/> | Calle Lorenzo Pardo |
| <input checked="" type="checkbox"/> | <input checked="" type="checkbox"/> | Calle Chorrío       |

